

# AFRIN COMPETITIVE COACHING CENTRE

ADDRESS- HARIPUR PASCHIMPARA , TEHATTA, NADIA 741163

MOB- 9734898773 /9002212083

WB GOVT. REG. NO. 01438

afrincoaching.in



KP MAIN MOCK TEST 2023 MARK = 85 TIME : 1.00 Hrs

NAME (In capital ) \_\_\_\_\_

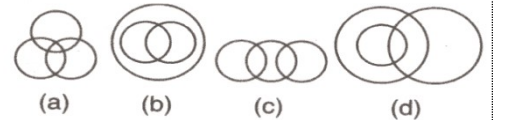
T = F

TOTAL =

## MOCK TEST 08

- 1) হুমায়ুননামা কার রচনা ? [A] হুমায়ুন [B] আবুল ফজল [C] গুলবদন বেগম [D] বাদাওনি
- 2) আকবরের নবরত্ন সভায় একমাত্র সদস্য যিনি আকবরের প্রবর্তিত “ দিন-ই-ইলাহি ” ধর্মগ্রহণ করেছিলেন , তাঁর নাম কী ? (A) বীরবল (B) তানসেন (C) আবুল ফজল (D) নিজামুদ্দিন
- 3) আকবরের নবরত্ন সভার কোন সদস্যকে হত্যা করা হয়েছিল ? (A) বীরবল (B) তানসেন (C) নিজামুদ্দিন (D) আবুল ফজল
- 4) বিখ্যাত ইউরোপীয়ান রাষ্ট্রদূত স্যার টমাস রো জাহাঙ্গীরের রাজসভায় কবে আসেন ? (A) 1565 খ্রিস্টাব্দ (B) 1615 খ্রিস্টাব্দ (C) 1600 খ্রিস্টাব্দ (D) 1608 খ্রিস্টাব্দ
- 5) তিনটি সংখ্যার অনুপাত 5: 7: 9 এবং প্রথম ও তৃতীয় সংখ্যার যোগফল দ্বিতীয় সংখ্যা অপেক্ষা 49 বেশি। সংখ্যা তিনটির যোগফল কত? (A) 147 (B) 148 (C) 145 (D) 146
- 6) A 10000 টাকা মূলধন নিয়ে একটি ব্যবসা শুরু করার কিছু মাস পর B 40000 টাকা নিয়ে ব্যবসায় যোগ দেয়। বছরের শেষে উভয়েই সমান পরিমাণ লভ্যাংশ পেলে, A-এর কত মাস পরে B ব্যবসায় যোগ দেয় ? (A) 3 মাস (B) 6 মাস (C) 8 মাস (D) 9 মাস
- 7) রাম পরীক্ষায় আটটি বিষয়ে গড়ে 71 নম্বর পেয়েছে। অঙ্কে আরও কত নম্বর বেশি পেলে গড় নম্বর 74 হত ? (A) 24 (B) 25 (C) 26 (D) 27
- 8) পোলো খেলার পৃষ্ঠপোষক হিসাবে নীচের কোন শাসক উল্লেখযোগ্য? (A) বাবর (B) হুমায়ুন (C) জাহাঙ্গীর (D) কুতুবউদ্দিন
- 9) RUST কে লেখা হয় - 1853 UNCLE কে লেখা হয় 84670 ,BOY কে 129 লেখা হলে STYLE কে কিভাবে লেখা হবে- a) 53970 b) 53925 c) 35790 d) 35970
- 10) A16 , ---, G36 , M49 , U64 (a) B24 (b) C24 (c) C25 (d) B25
- 11) যখন মোঙ্গল রাজা চেঙ্গিস খান অভিযান করেছিলেন তখন দিল্লীর শাসক কে ছিলেন A) ইলতুৎমিস B) সুলতানা রাজিয়া C) বলবন d) ফিরোজ তুঘলক
- 12) পানিপথের প্রথম যুদ্ধ কত সালে সংঘটিত হয় ? [A] 1527 সালে [B] 1526 সালে [C] 1529 সালে [D] 1556 সালে
- 13) দিল্লীর কোন সুলতান ক্রীতদাসদের জন্য একটি পৃথক দপ্তর সৃষ্টি করেছিলেন? A) ইলতুৎমিস B) বলবন C) মহম্মদ বিন তুঘলক D) ফিরোজ শাহ তুঘলক
- 14) দিল্লীতে তুঘলক বংশের প্রতিষ্ঠাতা কে ছিলেন A) গিয়াসউদ্দিন তুঘলক B) মহম্মদ বীন তুঘলক C) ফিরোজ তুঘলক D) এদের কেউই নয়
- 15) A এবং B একটি কাজ যথাক্রমে 18 ও 12 দিনে করতে পারে। তারা একত্রে কাজ শুরু করে কিন্তু কাজ শেষ হওয়ার 3 দিন আগে B চলে যায়। কাজটি মোট কত দিনে শেষ হবে ? (A) 12 (B) 10 (C) 9.6 (D) 9
- 16) একটি খালি চৌবাচ্চা একটি নল দিয়ে 10 ঘণ্টায় পূর্ণ হয়। কিন্তু চৌবাচ্চাটির তলদেশে ছিদ্র থাকার জন্য খালি চৌবাচ্চাটি পূর্ণ হতে 5 ঘণ্টা বেশি সময় লাগে। ওই ছিদ্র দিয়ে পূর্ণ চৌবাচ্চা কতক্ষণে খালি হবে ? (A) 10 ঘণ্টা (B) 40 ঘণ্টা (C) 20 ঘণ্টা (D) 30 ঘণ্টা
- 17) এক ব্যক্তি 10 কিমি/ঘণ্টা বেগে 40 কিমি পথ, 12 কিমি/ঘণ্টা বেগে 72 কিমি পথ, এবং 15 কিমি / ঘণ্টা বেগে 150 কিমি পথ অতিক্রম করে। সমস্ত যাত্রাপথে তার গড় গতিবেগ কত? (A) 30 কিমি/ঘ (B) 13.5 কিমি/ঘ (C) 13.1 কিমি/ঘ (D) 14 কিমি/ঘ
- 18) বিপরীত দিক থেকে ভিন্ন গতিতে আসা একই দৈর্ঘ্যের দুটি ট্রেন একটি পোস্টকে 10 সেকেন্ডে ও 15 সেকেন্ডে অতিক্রম করে। প্রতিটি ট্রেনের দৈর্ঘ্য 120 মিটার হলে, তারা পরস্পরকে কত সময়ে অতিক্রম করবে ? (A) 16 সেকেন্ড (B) 12 সেকেন্ড (C) 15 সেকেন্ড (D) 10 সেকেন্ড

- 19) 'আদালি' মুদ্রা দিল্লির কোন সুলতান প্রবর্তন করেন? A) গিয়াসউদ্দিন বলবন B) মহম্মদ বিন তুঘলক C) ইলতুৎমিস
- 20) কনৌজে 1540 খ্রিস্টাব্দে শেরশাহের কাছে পরাজিত হয়েছিলেন [A] বাবর [B] আকবর [C] হুমায়ুন [D] জাহাঙ্গীর
- 21) কার আমলে প্রচলিত তামার মুদ্রা হল 'দাম'? A) শেরশাহ হুমায়ুন (B) শাহজাহান (C) আকবর (D) জাহাঙ্গীর
- 22) অমৃতসরে স্বর্ণমন্দির নির্মাণের জন্য কোন মুঘল সম্রাট জমি বন্টন করেছিলেন? (A) হুমায়ুন (B) শাহজাহান (C) আকবর (D) জাহাঙ্গীর
- 23) 2, 5, 11, 23, 47, ?, (a) 95 (b) 74 (c) 23 (d) 47
- 24) D, H, L, P, T, ?, (a) W (b) U (c) X (d) Z
- 25) 5 : 24 :: 8 : ? A] 63 B] 64 C] 62 D] 68
- 26) কোন সম্রাটকে "জিন্দা পীর" আখ্যা দেওয়া হয়েছে? (A) ঔরঙ্গজেব (B) হুমায়ুন (C) শেরশাহ (D) আলাউদ্দিন খলজী
- 27) কে শেষ মুঘল সম্রাট যিনি ময়ূর সিংহাসনে বসেছিলেন? (A) ঔরঙ্গজেব (B) দ্বিতীয় শাহ আলম (C) মহম্মদ শাহ (D) শাহজাহান
- 28) প্রথম কোন মুঘল সম্রাট সুরাটে কারখানা স্থাপনের জন্য ব্রিটিশদের 'ফরমান' মঞ্জুর করেন? (A) আকবর (B) শাহজাহান (C) ঔরঙ্গজেব (D) জাহাঙ্গীর
- 29) স্রোতের প্রতিকূলে একটি নৌকা 30 মিনিটে 1 কিমি যায়। স্থির জলে নৌকার বেগ 10 কিমি/ঘণ্টা হলে, নদীর স্রোতের বেগ ঘণ্টায় কত কিমি? (A) 10 (B) 8 (C) 6 (D) 4
- 30) এক ব্যক্তি প্রতি বছর তার আয়ের 20% সঞ্চয় করেন। যদি তার আয় প্রতি বছর 10% বৃদ্ধি পায়, তবে প্রতি বছর তার সঞ্চয় শতকরা কত বৃদ্ধি পাবে? \* (A) 11% (B) 10% (C) 12% (D) 1%
- 31) এক ব্যক্তি 10% লাভে একটি টিভি বিক্রি করল। আরও 200 টাকা বেশি পেলে তার 12% লাভ হত। টিভিটির ক্রয়মূল্য কত ছিল? (A) 15000 টাকা (B) 11000 টাকা (C) 12000 টাকা (D) 10000 টাকা
- 32) কোনো একটি সংখ্যাকে 3 দিয়ে ভাগ করতে বলায়, সে ভুল করে 3 দিয়ে গুণ করল এবং গুণফল পেল 29.7। সঠিক উত্তরটি হল A) 3.3 B) 9.3 C) 9.8 D) 9.9
- 33)  $4368 + 2158 - 596 + x = 3421 + 1262$ ,  $x = ?$  a) -1247 b) -1258 c) -1545 d) -1654
- 34) ইবন বতুতা কোন শাসকের রাজত্বকালে ভারতে আসেন? (a) মহম্মদ বিন তুঘলক (b) ইলতুৎমিস (c) আলাউদ্দিন খিলজী
- 35) তারিখ-ই-ফিরুজশাহী গ্রন্থটির রচয়িতা কে? (A) আবুল ফজল (B) মিনহাজ-উজ-সিরাজ (C) জিয়াউদ্দিন বারানী
- 36) একটি ঘড়িতে সময় যখন 4.30 মিনিট তখন ঘন্টার কাটা এবং মিনিটের কাটার মধ্যে কত ডিগ্রি কোণ তৈরি হয়? a)  $45^\circ$  (b)  $55^\circ$  (c)  $40^\circ$  (d)  $60^\circ$
- 37) I am happy = 367, you are sad = 748, happy and sad = 469 And এর কোড কত? (a) 9 (b) 6 (c) 7 (d) 3
- 38) যদি  $8 \times 4 = 42$ ,  $6 \times 6 = 33$ ,  $2 \times 2 = 11$ ,  $4 \times 6 = 23$  হলে,  $2 \times 6 =$  কত? A) 32 B) 13 C) 14 D) 56
- 39) যুদ্ধক্ষেত্রে 'ক্রমি' কৌশল ব্যবহার করেছিলেন? (A) শের শাহ (B) ঔরঙ্গজেব (C) বাবর (D) আকবর
- 40) বাণিজ্যের উদ্দেশ্যে কারা প্রথম ভারতে আসে? A. ফরাসি. B. ওলন্দাজ. C. পর্তুগিজ. D. ইংরেজ
- 41) একটি জলপূর্ণ বালতির ওজন 25 কেজি।  $\frac{2}{3}$  অংশ জলপূর্ণ অবস্থায় বালতিটির ওজন 20 কেজি। খালি বালতিটির ওজন কত কেজি? A) 11 B) 12 C) 8 D) 10
- 42) দুটি রাশির লসাগু তাদের গসাগুর 27 গুণ। গসাগু ও লসাগুর সমষ্টি 84। যদি একটি সংখ্যা 3 হয় তবে অপরটি কত? A) 243 B) 9 C) 81 D) 27
- 43) তিন অঙ্কের কোন বৃহত্তম সংখ্যাকে 10, 12 এবং 15 দ্বারা ভাগ করলে প্রতি ক্ষেত্রে 4 ভাগশেষ থাকবে? A] 964 B] 784 C] 992 D] 996
- 44) তিনটি সংখ্যার মধ্যে দ্বিতীয়টি প্রথমটির দ্বিগুণ এবং তৃতীয়টির তিনগুণ। তিনটি সংখ্যার গড় 44 হলে, বড়ো সংখ্যাটি হল— A) 24 B) 72 C) 36 D) 108
- 45) চারটি ক্রমিক সমানুপাতী সংখ্যার প্রথম ও দ্বিতীয়টি যথাক্রমে 4 ও 16 হলে, চতুর্থ সংখ্যাটি কত? A) 250 B) 254 C) 256 D) 260
- 46) কোন মুঘল শাসকের কাছ থেকে ইস্ট ইন্ডিয়া কোম্পানি বাংলা-বিহার-ওড়িশার দেওয়ানি (1765 খ্রি) লাভ করে? a) দ্বিতীয় বাহাদুর শাহ b) দ্বিতীয় শাহ আলম c) মহম্মদ শাহ D) জাহাঙ্গীর
- 47) ভেনচিত্র - যন্ত্রশিল্পী, সঙ্গীতকার ও গিটার বাদক এর মধ্যে সম্পর্ক নির্দেশ করে?



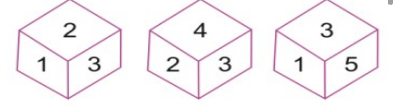
48)  $\sqrt{16 + \sqrt{72 + \sqrt{57 + \sqrt{576}}}}$  [A] 4 [B] 5 [C] 6 [D] 9

49) নীচের কোন চিহ্ন দুটি পাল্টাপাল্টি করলে সমীকরণটি সঠিক হবে?  $2 \times 3 + 6 - 12 \div 4 = 17$  A]  $\times$  ও + B]  $\div$  ও  $\times$   
C] - ও + D]  $\times$  ও -

50) SUM = EC, DIVIDED = EG হয়, তাহলে MULTIPLIED = ? A) DAF B) ABA C) EK D) EKL

51) অক্ষরের সারিতে, একটি অক্ষর বাম প্রান্ত থেকে 5ম এবং ডান প্রান্ত থেকে 12তম। একটি সারিতে কয়টি অক্ষর আছে?  
a) 15 b) 16 c) 17 d) 18

52) 1 এর বিপরীতে কত আছে A] 2 B] 3 C] 6 D] 5



53) ABCD, CDEF, EFGH, ? [a] KLMN [b] IJKL [c] GHIJ [d] FGHI

54) বেমানান টি নির্বাচন করুন- A) জুন B) জুলাই C) আগস্ট D) অক্টোবর

55) কবে হুমায়ুন প্রথম চুনার দুর্গ আক্রমণ করেছিল a) 1531 b) 1532 c) 1533 d) 1536

56) দিল্লিতে হুমায়ুনের সৌধ কে নির্মাণ করেছিলেন a) বাবর b) আকবর c) হাজী বেগম d) হুমায়ুন

57) ভারতে শূর রাজবংশের প্রতিষ্ঠা করেন a) খলজি b) শেরখানি c) শেরশাহ d) কেউ নন

58) বেমানান টি নির্বাচন করুন- 8, 14, 26, 48, 98, 194, 386 (b) 48 (a) 14 b) 48 c) 98 d) 194

59) কে বিখ্যাত পারসিক উৎসব নওরোজের প্রবর্তন করেন a) আলাউদ্দিন খলজি b) ইলতুৎমিস c) ফিরোজ তুঘলক d) বলবন

60) আগ্রা শহরের প্রতিষ্ঠাতা কে ছিলেন a) মোহাম্মদ বিন তুঘলক b) আলাউদ্দিন খলজি c) সিকান্দার লোদী d) ফিরোজ তুঘলক

61) মহম্মদ বিন তুঘলকের প্রকৃত নাম কি a) জুনা খা b) গাজী মালিক c) উলুঘ খা d) আলি গুরসান্ন

62) কিছু টাকা A, B, C-এর মধ্যে এমনভাবে ভাগ করা হল যাতে A, B-এর দ্বিগুণ টাকা এবং B, C-এর 4 গুণ টাকা পায়। তাদের অংশের অনুপাত কত? A) 1:2:4 B) 1:4:1 C) 8:4:1 D) 2:4:1

63) দুটি সংখ্যার অনুপাত 6:7, প্রথমটির বর্গের সঙ্গে 10 যোগ এবং দ্বিতীয়টির বর্গ থেকে 42 বিয়োগ করলে প্রাপ্তফল সমান হয়। সংখ্যা দুটি কী কী? A) 24, 28 B) 18, 21 C) 12, 14 d) 6, 7

64) অনিল বার্ষিক 9% হারে 3 বছরের জন্য কিছু টাকা বিনিয়োগ করে সুদে-আসলে 19050 টাকা পেল। সে কত টাকা বিনিয়োগ করেছিল? (A) 14500 (B) 11050 (C) 15000 (D) 10950 C

65) কোনো মূলধন 3 বছরে ও 4 বছরে সুদে আসলে যথাক্রমে 2400 ও 2520 টাকা হলে, সুদের হার কত? (A) 10% (B) 12% (C) 5% (D) 6%

66) ফতোয়া- ই জাহান্দারি গ্রন্থের লেখক কে a) মিনহাজ সিরাজ b) জিয়াউদ্দিন বারনি c) খাজা মালিক ইসামি d) রফিউদ্দিন সাহাজি

67) চারটি বাড়ি A, B, C ও D এমন ভাবে অবস্থিত যে, A বাড়ির দক্ষিণ-পূর্ব দিকে B - বাড়ি অবস্থিত। C বাড়িটি B বাড়ির উত্তর দিকে এবং A বাড়ির উত্তর-পূর্ব দিকে অবস্থিত। D বাড়িটি C বাড়ির পশ্চিম দিকে এবং A ও B বাড়িটির সাথে একই রাস্তার ওপর অবস্থিত। A বাড়ির কোন দিকে D বাড়িটি অবস্থিত। A) দক্ষিণ-পূর্ব B) উত্তর-পশ্চিম C) উত্তর-পূর্ব D) পশ্চিম

68) এক ব্যক্তি দুটি বই মোট 600 টাকায় কেনেন। প্রথম বইটি 20% ক্ষতিতে এবং দ্বিতীয়টি 60% লাভে বিক্রি করলে মোটের ওপর কোনো লাভ বা ক্ষতি হয় না। প্রথম বইটির ক্রয়মূল্য কত টাকা? (A) 380 (B) 420 (C) 450 (D) 430

69) একটি ঘড়ি প্রতি ঘণ্টায় 3 মিনিট fast যায়। কোনো দিন সকাল 7 টায় সঠিক ঘড়ির সাথে ওই ঘড়ির সময় মেলানো হল। সঠিক ঘড়িতে রাত 9 টা বাজলে, এই ঘড়িতে কত সময় দেখাবে? (A) 9 টা 40 মিনিট (B) 9 টা 42 মিনিট (C) 9 টা 41 মিনিট (D) 9 টা 43 মিনিট

70) আয়তক্ষেত্রের দৈর্ঘ্য 20% হ্রাস পেলে, ক্ষেত্রফল একই রাখতে হলে, প্রস্থ শতকরা কত বৃদ্ধি করতে হবে? (A) 25% (B) 26% (C) 20% (D) 15%

71) 169 বর্গমিটার ক্ষেত্রফল বিশিষ্ট বর্গাকার বাগানের মাঝখান দিয়ে দৈর্ঘ্য ও প্রস্থ বরাবর 2 সেমি চওড়া রাস্তার ওপর প্রতি বর্গসেমিতে 100 টাকা হিসাবে গাঁদা চারা লাগাতে কত টাকা খরচ হবে? (A) 4830 (B) 4820 (C) 4810 (D) 4800

72) 2023 সালের 15ই আগস্ট কততম স্বাধীনতা দিবস? A) 75তম B) 76তম C) 77তম D) 78তম

73) ভারতের জাতীয় পতাকা গেরুয়া রং কিসের প্রতীক A) সত্য ও শান্তি B) উন্নতি ও গতিশীলতা C) বিশ্বাস ও প্রগতির D) ত্যাগ, শৌর্ষ ও সেবার

## PREPOSITION

74) Nobody \_\_\_ you could be so selfish. a) of b) but c) form d) at

75) He came and sat \_\_\_ his mother. a) besides b) beside c) after d) off

76) He has no taste \_\_\_\_\_ music. A) of b) in c) at d) for

## IDIOMS

- 77) Hard and fast means (a) strict (b) solid (c) fast moving (d) some hard surface.  
78) By and by means (a) gradually (b) slowly and slowly (c) soon

### Opposite meaning:-

- 79) Salient (a) correct (b) insignificance (c) central (d) convenient  
80) Unnerved (a) confident (b) nervous (c) hopeful (d) anxious

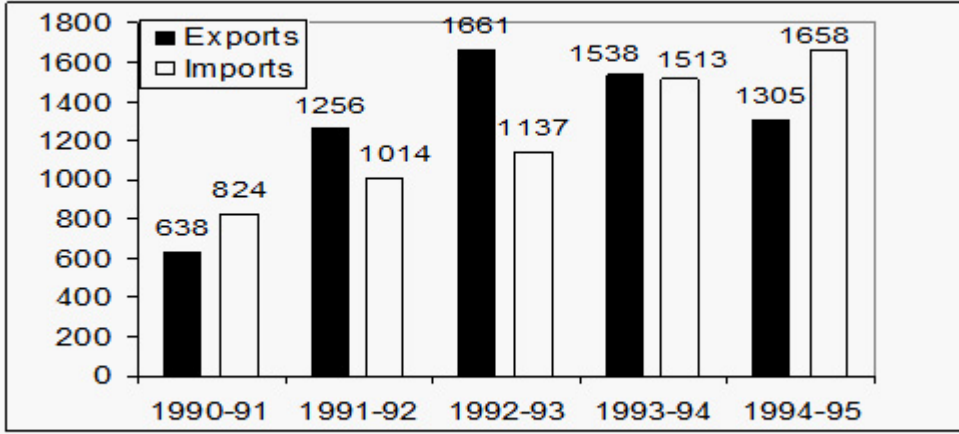
### correctly spelt:-

- 81) (a) reprimond (b) resplendant (c) repository (d) requisite

### Choose the correct synonyms:-

- 82) Gregarious----a) pugnacious b) turbulent c) sociable d) clumsy.  
83) Bankrupt ----- a) blameless b) well off c) prosperous d) insolvent.

নিম্নলিখিত গ্রাফটি মনোযোগ সহকারে অধ্যয়ন করুন এবং নিম্নলিখিত প্রশ্নের উত্তর দিন:



- 84) কোন বছরে রপ্তানি ও আমদানির ব্যবধান সর্বাধিক ছিল? A) 1994-95 B) . 1992-93 C) 1993-94 D) 1990-91  
85) প্রদত্ত সময়ের মধ্যে গড় আমদানির চেয়ে কম আমদানি থাকা বছরের অনুপাত কত?  
A) 3:2 B) 4:1 C) 2:3 D) 1:4  
86) 1993-94 সালে রপ্তানি 1991-92 সালের আমদানির তুলনায় আনুমানিক কত শতাংশ বেশি?  
A) 49% B) 51.6% C) 201% D) এর কোনটিই নয়